

## Odčítání dvojciferných čísel s přechodem

**Autor:** Mgr. Jitka Hégrová

**Vzdělávací oblast / obor:** Matematika a její aplikace/  
Matematika

**Tematický okruh:** Odčítání dvojciferných čísel do 100  
s přechodem přes základ, slovní úloha

**Ročník:** 3. ročník

**Období zpracování:** leden 2013

Autorem materiálu a všech jeho částí, není-li uvedeno jinak, je Mgr. Jitka Hégrová.  
Tvorba materiálu je financována z ESF a státního rozpočtu ČR.

XI 21-13:13

## Metodické pokyny

list 3: Slovní úloha na vyvození odčítání dvojciferných čísel s přechodem.

list 4: Barvení obrázku. Vybarvi motýlka dle zadání. Využij výpňi z lišty. Klik na motýla - kontrola

list 5: Barvení obrázku - kontrola.

list 6: Pravda nebo lež? Matematické příklady. Žáci klikají na ruku v případě správnosti či nesprávnosti. Odkaz na další příklad - hvězdy na listech 7 a 8.

list 7: Odkaz na správnou odpověď.

list 8: Odkaz na špatnou odpověď.

list 9 - 13: Pravda nebo lež? Příklady 2 - 6.

1 17-19:27

**Sadař musí každý den prodat 45 stromků. 27 stromků už prodal. Kolik stromků mu zbývá ještě prodat?**

musí prodat

již prodal

zbývá

Sadař zbyvá prodat stromků.

**Jak na to?**

menšenec	-	menšitel	=	rozdíl
56		29		= 27
		20	9	

1. menšitele si rozdělíme na desítky a jednotky.  
2. od menšence odečteme nejprve desítky, pak jednotky.

56 - 20 = 36    a    36 - 9 = 27

1 14-20:25

**Vybarvi motýlka dle zadání:**

modrá: 85 - 27	červená: 33 - 27	zelená: 52 - 48
53 - 36	85 - 56	81 - 16
45 - 27	41 - 19	24 - 19
52 - 36	95 - 36	

žlutá: 66 - 38	růžová: 35 - 28
83 - 57	75 - 66
72 - 19	41 - 16

1 28-19:42

**Vybarvi motýlka dle zadání:**

modrá: 85 - 27	červená: 33 - 27	zelená: 52 - 48
53 - 36	85 - 56	81 - 16
45 - 27	41 - 19	24 - 19
52 - 36	95 - 36	

žlutá: 66 - 38	růžová: 35 - 28
83 - 57	75 - 66
72 - 19	41 - 16

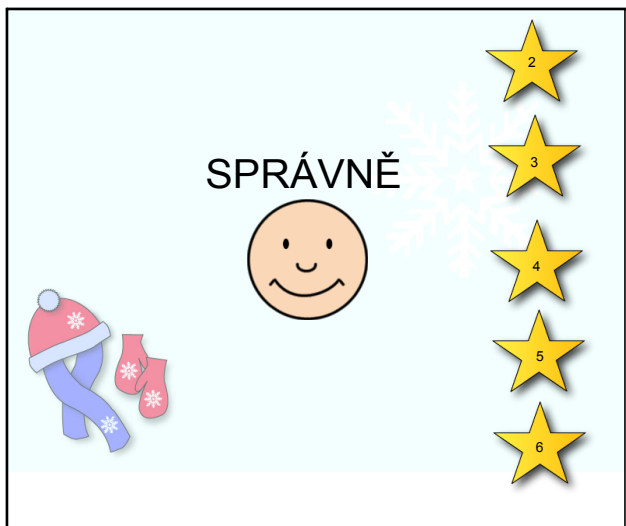
1 28-19:42

**1 je pravda, že 83 - 56 = 27?**

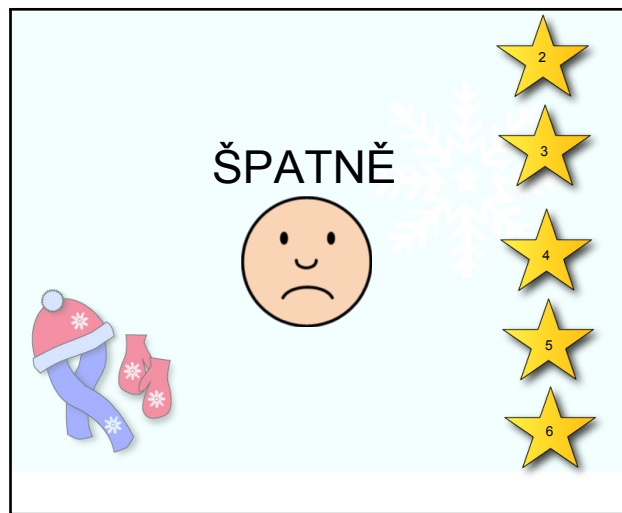
Ano

Ne

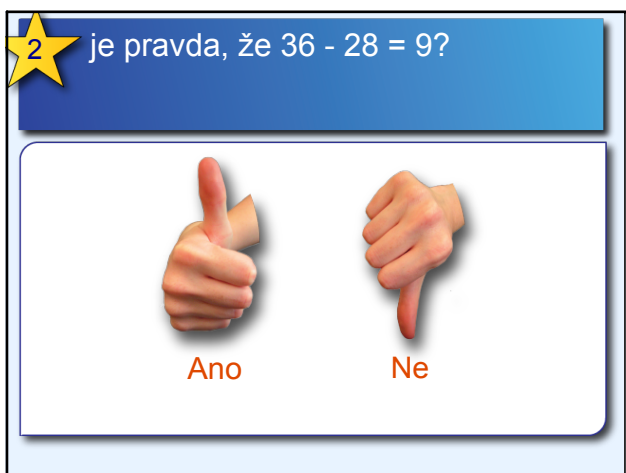
Dec 13-3:02 AM



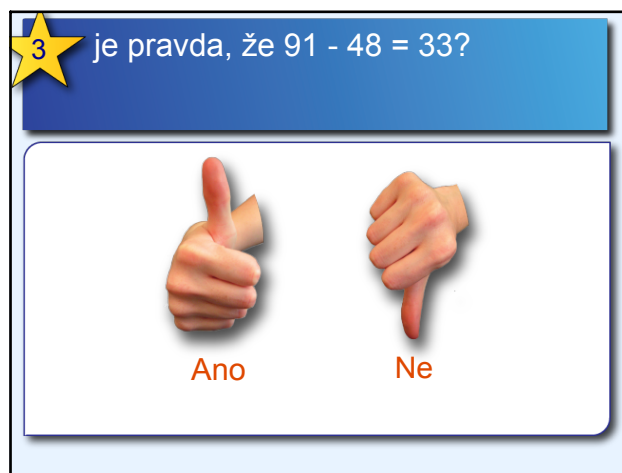
1 28-19:42



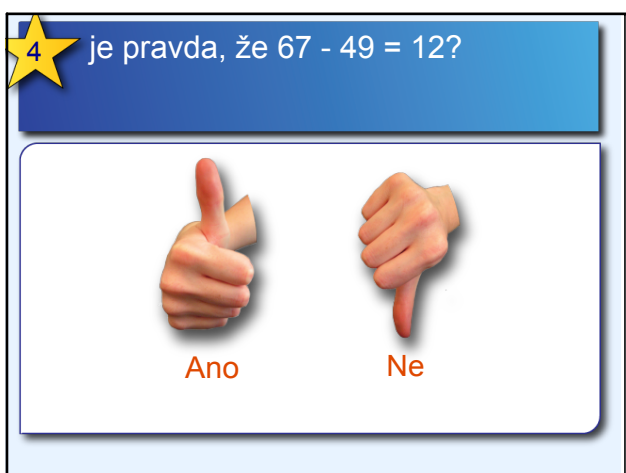
1 28-19:42



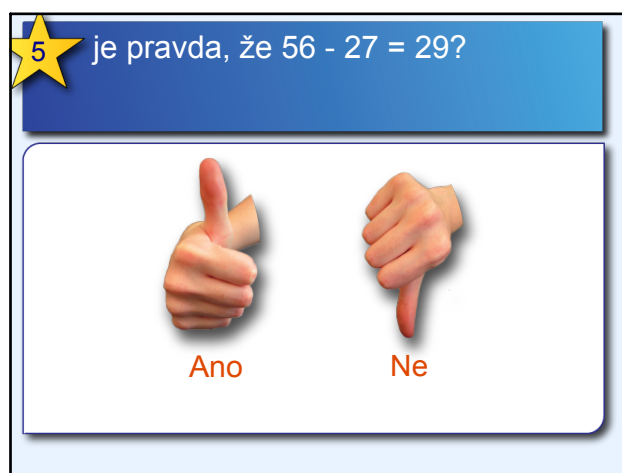
Dec 13-3:02 AM



Dec 13-3:02 AM




Dec 13-3:02 AM




Dec 13-3:02 AM

6 je pravda, že  $45 - 38 = 5$ ?



Ano

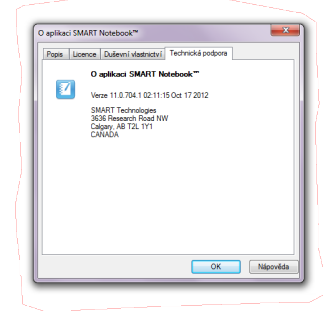


Ne

Dec 13-3:02 AM

**ZDROJE:**

Kolekce 320 000 plně barevných a volně šiřitelných obrázků, fotografií a klipartů.  
/DVD-ROM/. Terasoft a.s.



17-18:00